




TATIANA TAPALAGĂ




GHICITORI MATEMATICE CU ANIMALE SIMPATICE




$$1 + 2 = 3$$



$$4 - 2 = ?$$



$3 + 1 =$



$6 + 1 =$

Dragi copii,

Matematica e minunată
Când cu ghicitori e asortată.
Vă invit la o plimbare
Cu scăderi și adunare
Prin ghicitori isteț create
Ce așteaptă să fie dezlegate.
Răspunsul se află în voi,
Eliberați-l, hai, fiți eroi!
Dacă sunteți pregătiți,
Spor la lucru și porniți!

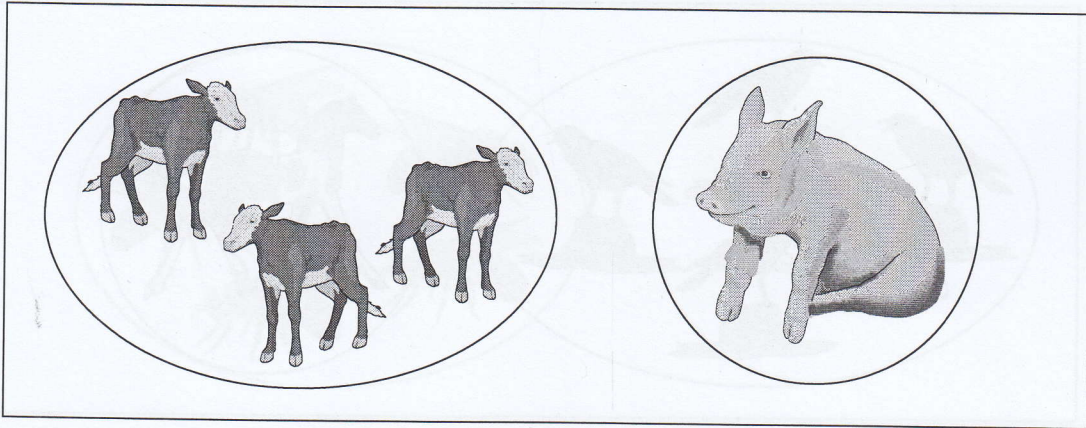
*Profesor pentru învățământ preșcolar
Tatiana Tapalagă*



$4 + 2 =$


Trei viței și un purcel
 Ronțăie un dovlecel,
 Cât sunt încă împreună
 Grăbește-te și-i adună!

$$\boxed{3} + \boxed{1} = \boxed{}$$



Trei găini stau în ogradă
 Coccoțate pe o ladă,
 Ele strigă: cotcodac,
 Uite, a venit un rac!

$$\boxed{} + \boxed{} = \boxed{4}$$



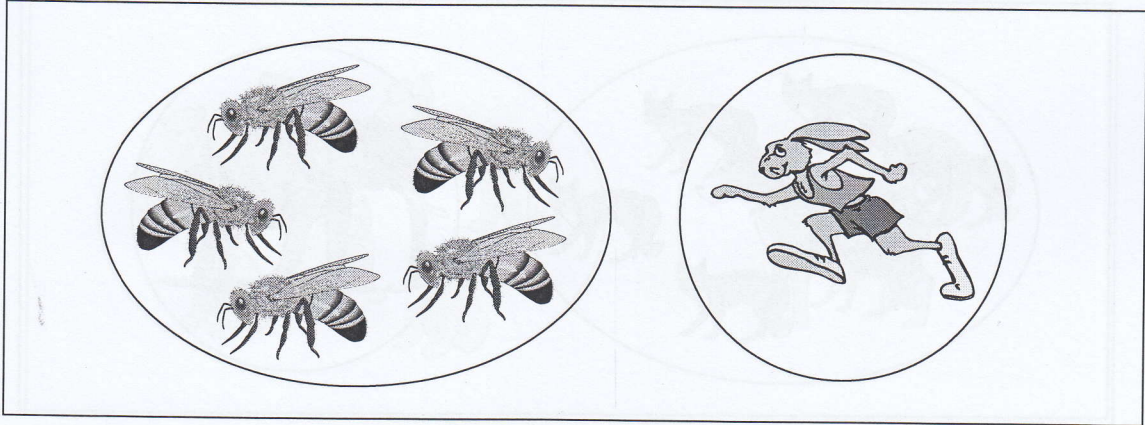
Exersați!

• Scrie cifra 4

4													


Cinci albine hărnicuțe,
 Alergând prin flori, desculțe,
 Întâlnesc un iepuraș
 Îmbrăcat ca la oraș!

$$\boxed{5} + \boxed{1} = \boxed{}$$



Cinci rândunele
 Se adună cumițele
 Lângă un motan
 Negru, dolofan.

$$\boxed{} + \boxed{} = \boxed{6}$$




Exersați!

- Scrie cifra 6

6																			


Șapte ursuleți
 Jucăuși, isteți,
 Se împrietenesc
 Cu un câine ciobănesc.

$$\boxed{7} + \boxed{1} = \boxed{}$$



Șapte greierași vestiți,
 La vioară iscușiți,
 Vor să adune în grup
 Și pe fiorosul lup.

$$\boxed{} + \boxed{} = \boxed{8}$$

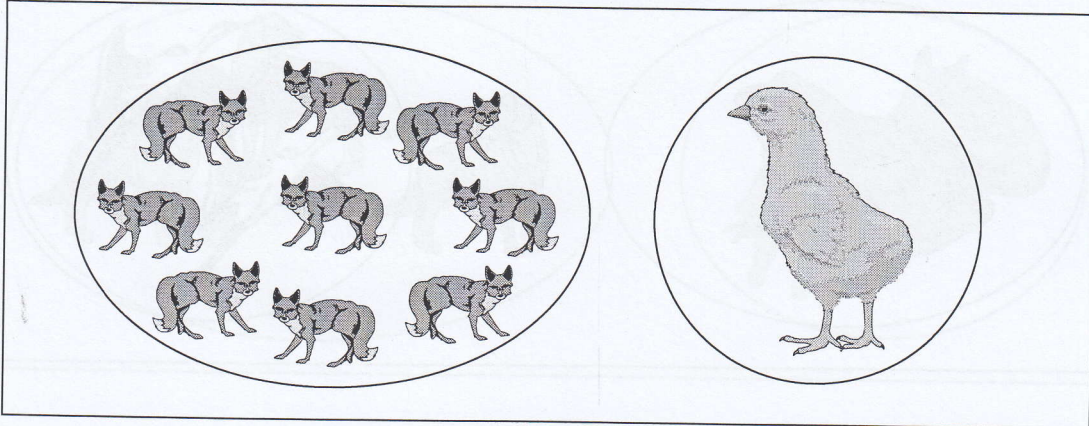


Exersați!
 • Scrie cifra 8

8																			


Nouă vulpi șirete
 Caută pe îndelete
 Un pui de găină
 Bun pentru cină.

$$\boxed{9} + \boxed{1} = \boxed{}$$



Nouă vrăbii zgribulite,
 Cu zăpadă acoperite,
 Cheamă-n ajutor
 Un șoarece zburător.

$$\boxed{} + \boxed{} = \boxed{10}$$



Exersați!

• Scrie cifra 10

1	0																		

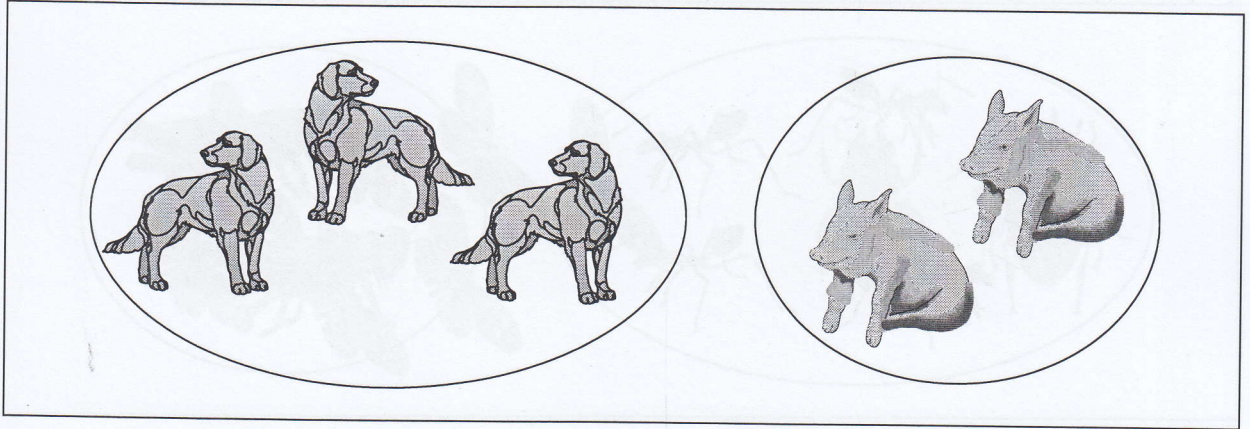
Trei căței și doi purcei

Nici prea mari, nici mititei,

Se privesc mirați și apoi

Fac un mare tărațoi.

$$\boxed{3} + \boxed{2} = \boxed{}$$



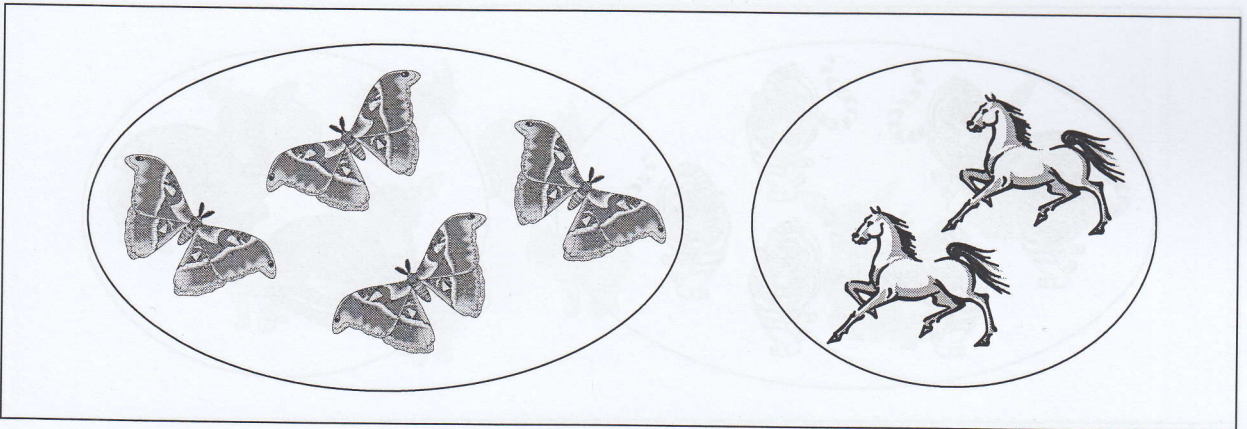
Patru fluturași vioi

Aleargă prin zăvoi,

Cu doi cai se întâlnesc

Și pe loc se împrietenesc.

$$\boxed{4} + \boxed{2} = \boxed{}$$



Exersați!

- Colorează figura geometrică în interiorul căreia este scrisă cifra 6.

